

8 класс

**Инструкция по выполнению работ**

Время на выполнение работы – 90 минут.  
Максимальное количество баллов – 100.

Вам предлагается выполнить задания школьного этапа Олимпиады. Просим внимательно прочесть формулировку каждого задания, чтобы дать ответ на поставленные вопросы в той форме, которую предполагает каждое задание. Успехов Вам в выполнении работы!

Шифр И-8-16

**Задание № 1. Выберите один правильный ответ. Впишите ответы в таблицу.**

1.1. В каком году произошли описанные события?

«Поляки понесли такую значительную потерю, - писал польский историк XVII в. Кобержицкий, что ее ничем нельзя было вознаградить. Колесо фортуны повернулось, и надежда овладеть целым Московским государством рушилась невозвратно»...Остатки польского гарнизона в кремле, доведенные до отчаяния голодом, капитулировали. Освобождение российской столицы от интервентов создало условия для восстановления в стране государственной власти».

- А) 1611 г.      Б) 1612 г.      В) 1610 г.      Г) 1558 г.

1.2. Определите по нижеприведенному отрывку, о каком историческом событии идет речь?

«...с возгласом «Братья мои и друзья, дерзайте!» выехал воевода Боброк. Русские воины выехали из дубравы, как выдержанные соколы ударяют в стаи гусиные, высоко подняты знамена грозным воеводою. Были же воины свирепы, как львы, напавшие на овечьи стада. Яростный удар Засадного полка во фланг и тыл нападавшим переломил ход битвы».

- А) Невская битва    Б) Битва на р. Сити    В) Куликовская битва    Г) Ледовое побоище.

1.3. Назовите фамилию государственного, военного и политического деятеля, одного из самых приближенных опричников Иоанна Грозного?

- А) Скуратов    Б) Шуйский    В) Адашев    Г) Шереметев

1.4. В каком году Астраханское ханство было окончательно присоединено к России?

- А) 1547 г.      Б) 1552г.      В) 1556 г.      Г) 1549 г.

1.5. При каком князе во Владимире было начато строительство Успенского собора?

- А) при Юрии Долгоруком      В) при Всеволоде Большое Гнездо  
Б) при Андрее Боголюбском      Г) при Святославе Ярославиче

**Ответ:**

| 1.1. | 1.2. | 1.3. | 1.4. | 1.5. |
|------|------|------|------|------|
| Б    | Б    | В    | В    | В    |

Критерии оценивания: за каждый верный ответ - 2 балла, всего – 10 баллов.

**Задание № 2. Какое из перечисленных понятий (имён, дат, событий) является лишним в данном ряду? Лишнее слово или словосочетание зачеркните. Укажите, по какому принципу образован каждый ряд, то есть кратко поясните, что объединяет события (понятия, имена, даты).**

А) зипун, терлик, ферязь, парча

**Ответ:** Зипун все остальные слова относятся к одежде, а зипун - это головной убор.

Б) 1648г., 1550г., 1650г., 1662г., 1667-1671г., 1649г.

**Ответ:** 1649 все остальные даты, это даты восстаний, а 1649 - при. в. улом.

В) Древляне, бужане, вятичи, дреговичи, поляки, кривичи

**Ответ:** Бужане, все остальные славянские племена

Г) А.Ф. Адашев, Сильвестр, М.И. Воротынский, А.М. Курбский, И.В. Шереметев, И.М. Висковатый, В. Шуйский

26 **Ответ:** В Шуйский *все остальные памят. деят. при царях а В. Шуйский царь*  
*все остальные участники Избранной Рады*  
Критерии оценивания: за каждый верный ответ - 4 балла, всего - 16 баллов

**Задание № 3. Выберите три правильных ответа на каждый вопрос. Впишите ответы в таблицу.**

3.1. К основным причинам крестовых походов относится:

- 1) распространение культуры Возрождения
- 2) стремлением освободить Святую землю
- 3) противоречия между католиками и протестантами
- 4) бедственным положением, сложившимся в Европе в результате экономического кризиса и демографической ситуации
- 5) распространение арабами своей веры
- 6) желанием распространить влияние католической Церкви на восток

3.2. Какие современные народы относятся к южным славянам?

- 1) чехи
- 2) поляки
- 3) словаки
- 4) черногорцы
- 5) хорваты
- 6) болгары

3.3. Какие из перечисленных племен относятся к древнегерманским племенам?

- 1) тевтоны
- 2) вятичи
- 3) вестготы
- 4) остготы
- 5) кривичи
- 6) древляне

**Ответ:**

| 3.1   | 3.2   | 3.3   |
|-------|-------|-------|
| 246 3 | 234 1 | 134 3 |

Критерии оценивания: за каждый верный ответ - 1 балл, всего - 9 баллов.

**Задание № 4. Выберите один правильный ответ. Впишите ответы в таблицу.**

4.1. Что означает термин «остяк»?

- 1) натуральный подбор, взимавшийся с нерусских народов Поволжья, Приуралья и Сибири
- 2) устаревшее русское название народности ханты
- 3) прежнее название марийцев

4.2. В каком году был издан Наказ Федора Иоановича о строительстве города в Сургуте?

- 1) 1594 г.
- 2) 1593г.
- 3) 1589г.

4.3. В каком году начался стремительный поход казачьего отряда атамана Ермака Тимофеевича в Сибирь?

- 1) 1581г.
- 2) 1582г.
- 3) 1583г.

**Ответ:**

| 4.1. | 4.2. | 4.3. |
|------|------|------|
| 2    | 1    | 1    |

Критерии оценивания: за каждый верный ответ - 1 балл, всего - 3 балла.

**Задание № 5. Определите хронологический порядок событий. Занесите буквенные обозначения событий в хронологическом порядке в приведенную таблицу.**

- 5.1. А) Начало правления Ивана III
- Б) Учреждение патриаршества
- В) Год начала в России семибоярщины
- Г) Начало введения заповедных лет
- Д) Отмена местничества
- Е) Венчание Ивана IV на царство

- 5.2. А) экспедиция В. Атласова на Камчатку
- Б) исследование В. Поярковым р. Амур, Сибири



- В) открытие С. Дежневым пролива
- Д) открытие Х. Колумбом Америки

- Г) поход Е. Хабарова по р. Амур
- Е) экспедиция М. Стадухина в Восточную Сибирь

- 5.3. А) Издание Уложения о службе  
 В) заключение Плюсского перемирия  
 Д) начало формирования Второго ополчения

- Б) начало проведения политики опричнины
- Г) учреждение в России патриаршества
- Е) битва при Молодях







Ответ:

|     | 1 | 2  | 3 | 4  | 5  | 6   |
|-----|---|----|---|----|----|-----|
| 5.1 | А | Е  | Г | Б  | БВ | ВЖД |
| 5.2 | Д | В  | Е | Б  | Г  | А   |
| 5.3 | А | ВБ | В | ВЕ | ЕГ | Д   |

Критерии оценивания: за каждый верный ответ - 1 балл, всего - 18 баллов.

135

Задание № 6. Внимательно рассмотрите изображения и выполните задания.

|   |   |   |  |
|---|---|---|--|
| А |   | Б |   |
| В |  | Г |  |
| Д |  | Е |  |

6.1. Запишите названия населенных пунктов, гербы которых представлены на изображениях.

Ответ.

| А              | Б             | В                      | Г                     | Д                   | Е             |
|----------------|---------------|------------------------|-----------------------|---------------------|---------------|
| <i>Пыть-ях</i> | <i>Сургут</i> | <i>Кызыл-Мин-Шийек</i> | <i>Неро-Тыкочанка</i> | <i>Китисеватово</i> | <i>Ямбург</i> |

6.2. Выпишите букву, обозначающую герб населенного пункта, название которого изначально предполагалось как «Ягельный»

Ответ. Г

6.3. Выпишите букву, обозначающую герб населенного пункта, который ранее именовался как поселок Комсомольский.

Ответ. В

6.4. Выпишите букву, обозначающую герб населенного пункта, название которого по мнению некоторых исследователей, с хантыйского переводится как «улыбка».

Ответ. Е

25

Критерии оценивания: за каждый верный ответ - 1 балл, всего - 9 баллов.

**Задание № 7. Если вы согласны с утверждением, напишите «да», если не согласны - «нет».**  
Внесите свои ответы в таблицу.

7.1. Первым российским государем династии Романовых стал Михаил Федорович.

7.2. Две первые попытки Ивана IV (походы 1547-1548, и 1549-1550гг.) взять столицу Казанского ханства закончились неудачей.

7.3. Местничество это система распределения служебных должностей в России, независимо от знатности рода.

7.4. В 1612 г. между Россией и Швецией был заключен Столбовский мирный договор.

7.5. Учреждение патриаршества в России в 1598 году, закрепило независимость Русской православной церкви от Константинополя.

Ответ:

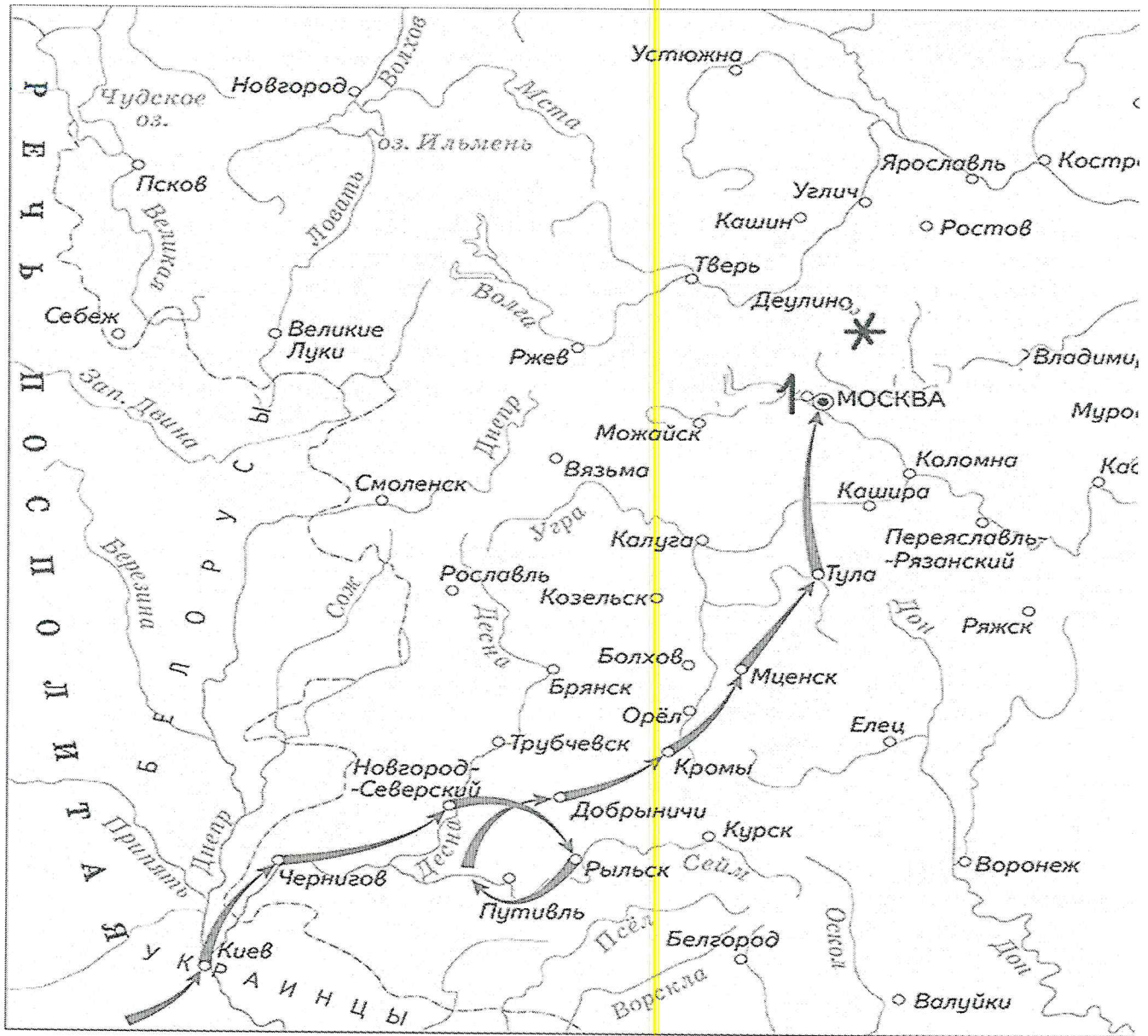
| 7.1.      | 7.2.       | 7.3.       | 7.4.       | 7.5.      |
|-----------|------------|------------|------------|-----------|
| <i>Да</i> | <i>Нет</i> | <i>Нет</i> | <i>Нет</i> | <i>Да</i> |

Критерии оценивания: за каждый верный ответ - 1 балл, всего - 5 баллов.

45



Задание № 8. Рассмотрите карту и выполните предложенные задания



- 8.1. Новый самозванец объявился на юго-западе страны в период правления царя \_\_\_\_\_ (напишите имя и фамилию царя).
- 8.2. Под цифрой «1», обозначена резиденция самозванца, расположенная близ Москвы Мужино (напишите название города).
- 8.3. Самозванец, выдававший себя за сына Ивана IV Грозного, царевича Дмитрия Углицкого, получил прозвище Мужинский вор (напишите прозвище)
- 8.4. Под «\*» обозначен монастырь, героически выдержавший 16-месячную осаду интервентов - \_\_\_\_\_ (напишите название монастыря).
- 8.5. Напишите название периода в русской истории, когда происходили события, обозначенные на карте.

Ответ:

|      |                             |   |
|------|-----------------------------|---|
| 8.1. | <u>Василий Шуйского</u>     | 2 |
| 8.2. | <u>Мужино</u>               | 2 |
| 8.3. | <u>Мужинский вор</u>        | 2 |
| 8.4. | <u>Деулинский монастырь</u> | 2 |
| 8.5. | <u>Смута</u>                | 2 |

Критерии оценивания: за каждый верный ответ - 2 балла, всего - 10 баллов.

**Задание № 9.** Определите пропущенные в тексте названия, понятия, имена, даты, обозначенные порядковыми номерами. При необходимости при порядковых номерах даются пояснения о характере требуемой вставки. Необходимые вставки впишите под соответствующими номерами в помещённую ниже таблицу.

Жители 1 (название города) присягнули на верность жене Федора Ивановича Ирине. Но она отказалась от престола и объявила о своем уходе в монастырь. И тогда взоры москвичей обратились на 2 (имя и фамилия будущего царя). Он не был потомком 3 (имя князя), но в течение многих лет управлял государством. Народная молва приписала ему смерть царевича 4 (имя царевича). В феврале 1598г. когда истекло время траура по Федору Ивановичу, в Кремле собрался 5 (название сословно-представительного органа). На нем при активной поддержке патриарха 6 (имя патриарха) на царство был избран Борис Годунов 7 (годы правления). Борис Годунов в отличие от 8 (имя царя) отказался от политики устрашения своих подданных и массовых казней. Однако со своими недругами Борис поступал жестоко. Так, по ложному обвинению были арестованы бояре 9 (фамилия бояр), двоюродные братья царя Федора Ивановича. Старший из братьев, Федор Никитич, был пострижен в монахи и под именем 10 (имя) отправлен в один из северных монастырей. Трое младших братьев вскоре умерли в ссылке.

**Ответ:**

|     |                  |     |
|-----|------------------|-----|
| 1.  | Москва           | - 2 |
| 2.  | Бориса Годунова  | - 2 |
| 3.  | Федора Ивановича |     |
| 4.  | Дмитрие          | - 2 |
| 5.  | Земский собор    | - 2 |
| 6.  | 1598 - Иеремия   |     |
| 7.  | 1598 - 1605      | - 2 |
| 8.  | Ивана Грозного   | 2   |
| 9.  | Головины         | 2   |
| 10. | Римарет          | - 2 |

Критерии оценивания: за каждый верный ответ - 2 балла, всего - 20 баллов.

635